

AYT

%100 ÖSYM
Formatında

Kafa Dengi

EXTRA TARİH SORU BANKASI

1596 soru >>>

Tamamı Video Çözümlü | Akıllı Tahtaya Uyumlu
Farklı Soru Tipleri | Kazanım Detaylı Cevap Anahtarı


**EXTRA
LAAAR**

Ekstra Sarmal Deneme
Kafadengi TV



Siber Öğrenci Koçu

Mehmet Üzmez


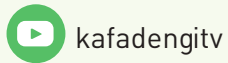




Ürün Adı	: AYT Extra Tarih Soru Bankası
Ürün No	: KA00-SS.02SBN11
ISBN	: 978-625-7079-65-5
Yayın Yönetmeni	: Elif Çağlar
Proje Koordinatörü	: Yasemin Korkmaz
Yazar	: Mehmet Üzmez
Dizgi-Mizanpaj	: Kafa Dengi Dizgi/Şule Gülesi
Dijital Uygulama	: Ömer Faruk Erdem
Kapak Tasarım	: Bull Ajans
Baskı	: Yeni Devir Matbaacılık ☎ 0 212 471 71 50 Sertifika No: 41910
İletişim	: ☎ 0 212 275 00 35 🌐 www.kafadengiyayinlari.com Gülbahar Mah. Cemal Sururi Sk. No:15 / E Halim Meriç İş Merkezi Kat: 9 Mecidiyeköy - İSTANBUL

Copyright © Fikir ve Sanat Eserleri Kanunu'na göre her hakkı Eksen Yayıncılık ve Eğitim Malz. San. Tic. A.Ş.'ye aittir. Eksen Yayıncılık'ın yazılı izni olmaksızın, kitabın herhangi bir şekilde kısmen veya tamamen çoğaltılması yasaktır.

Akıllı Tahta Uygulaması → akillitahta.kafadengiyayinlari.com/
Öğretmenlerimiz ücretsiz olarak indirebilir.



SEVGİLİ GENÇ ARKADAŞIM, BU KİTAPTA BİR SORU BANKASINDAN ÇOK DAHA FAZLASINI BULACAKSIN!

Kafa Dengi Yayınları olarak Extra Serisiyle yanındayız. "Neden Extra?" dersin, bu serimize soruların dışında işine çok yarayacağını düşündüğümüz ve sınava hazırlanmanı sağlayacak "Extra Sarmal Denemeler" ekledik. Ayrıca her konuyla paralel olarak hazırlanmış video ders anlatımlarına "KafadengiTV" YouTube kanalımızdan ulaşabilirsin.

Tabii ki bu kadar değil! Testlerimizin kurgusunu da konuları en kolay öğrenebileceğin şekilde planladık. Ünite sonlarında seviye 1, seviye 2 ve seviye 3 şeklinde kademeli testler hazırladık. Ünite gruplarının sonlarına ise ilgili üniteleri pekiştirici ünite değerlendirme testlerini ekledik. Ayrıca takıldığın tüm soruların video soru çözümlerine testin başındaki karekodu okutarak ulaşman çok kolay.


Senin başarılarına "extra" başarılar daha katabilmen için Türkiye'nin en iyileri arasında yer alan kadromuz ile hazırladığımız bu serimizle yanındayız.

Artık sıra sende! Başarı dileklerimizle.

EXTRA TARİH SORU

KONU ANLATIM VIDEOSUNU İZLE

İster kitabımızdaki karekodu okutarak istersen "kafadengitv" YouTube kanalımızdan kafa hocaların anlattığı ders videolarını izle. Soru bankamızdaki konularla YouTube kanalımızdaki konu anlatım başlıkları senkronizedir. Bu dersler, özel ders niteliğinde olup hocalarımızın özel taktikleri ile de zenginleştirilmiştir.




ADIM



İZLEDİĞİN KONUYLA İLGİLİ TESTLERİ ÇÖZ

Seviyelendirilmiş olarak hazırlanmış ünite testlerini çöz. Hiçbir adımı ve testi atlamadan ilerle.





ADIM



ÇÖZEMEDİĞİN SORULARIN ÇÖZÜM VİDEolarını İZLE VE ÖĞREN

Testte yapamadığın ya da yanlış yaptığın sorunun "karekod"unu okutarak sorunun çözüm videosunu hızlıca izle ve öğren.



ADIM



TESTLERİN SONUCUNA GÖRE "SİBER ÖĞRENCİ KOÇU" YKS YOLUNDA SANA YOL GÖSTERECEK VE SENİ YÖNLENDİRECEK

Testler için ister kitabın sonundaki cevap anahtarı kısmında yer alan karekodu okutarak ulaşabileceğin kazanım detaylı cevap anahtarı ile istersen daha da geliştirilmiş olan "Siber Öğrenci Koçu" uygulaması ile koçluk hizmetinden yararlan. Bu testler için ayrıntılı analiz raporlarına ve sana özel yönlendirmelere ulaş.




ADIM



BANKASI'NDA NELER VAR?


SEVİYELENDİRİLMİŞ ÜNİTE TESTLERİ

Her testte, seviye 1, seviye 2, seviye 3 şeklinde kademe kademe soruların zorluk derecesini artırıp konuları pekiştirmeni istedik.



DEĞERLENDİRME TESTLERİ

Ünite gruplarının sonlarındaki değerlendirme testlerinde, farklı tarzlardaki sorularla bilgilerinizi pekiştirmeni istedik.




EXTRA SARMAL DENEME

Belirli periyotlarla kitabın en başından o üniteye kadar olan bilgilerinizi ölçebileceğiniz extra sarmal denemeler hazırladık.



KAZANIM DETAYLI CEVAP ANAHTARI

Eksiklerinizi nokta atışıyla daha hızlı belirlemen için extra sarmal denemelerin yanıt anahtarlarını soruların kazanımları ve zorluk dereceleri ile birlikte verdik. Bu bilgilere cevap anahtarı kısmındaki karekodu okutarak ulaşabilirsiniz.



İÇİNDEKİLER

TARİH VE ZAMAN

01

Tarih ve Zaman 8

İNSANLIĞIN İLK DÖNEMLERİ

02

İnsanlığın İlk Dönemleri 14

► Extra Sarmal Deneme Sınavı - 1 22

ORTA ÇAĞ'DA DÜNYA

03

Orta Çağ'da Dünya 24

İLK VE ORTA ÇAĞLARDA TÜRK DÜNYASI

04

İlk ve Orta Çağlarda Türk Dünyası 30

İSLAM MEDENİYETİNİN DOĞUŞU

05

İslam Medeniyetinin Doğuşu 38

TÜRKLERİN İSLAMİYET'İ KABULÜ VE İLK TÜRK İSLAM DEVLETLERİ

06

Türklerin İslamiyet'i Kabulü ve İlk Türk İslam Devletleri 44

► Değerlendirme Testi - 1 (1-6. Üniteler) 52

► Extra Sarmal Deneme Sınavı - 2 54

YERLEŞME VE DEVLETLEŞME SÜRECİNDE SELÇUKLU TÜRKİYESİ

07

Yerleşme ve Devletleşme Sürecinde Selçuklu Türkiyesi 56

BEYLİKTEN DEVLETE OSMANLI SİYASETİ (1302-1453)

08

Beylikten Devlete Osmanlı Siyaseti (1302-1453) 62

DEVLETLEŞME SÜRECİNDE SAVAŞÇILAR VE ASKERLER

09

Devletleşme Sürecinde Savaşçılar ve Askerler 68

BEYLİKTEN DEVLETE OSMANLI MEDENİYETİ

10

Beylikten Devlete Osmanlı Medeniyeti 74

► Extra Sarmal Deneme Sınavı - 3 80

DÜNYA GÜCÜ OSMANLI (1453-1595)

11

Dünya Gücü Osmanlı (1453-1595) 82

SULTAN VE OSMANLI MERKEZ TEŞKİLATI

12

Sultan ve Osmanlı Merkez Teşkilatı 90

KLASİK ÇAĞDA OSMANLI TOPLUM DÜZENİ

13

Klasik Çağda Osmanlı Toplum Düzeni 96

► Değerlendirme Testi - 2 (7-13. Üniteler) 102

► Extra Sarmal Deneme Sınavı - 4 104

DEĞİŞEN DÜNYA DENGELERİ KARŞISINDA OSMANLI SİYASETİ (1595-1774)

14

Değişen Dünya Dengeleri Karşısında Osmanlı Siyaseti (1595-1774) 106

DEĞİŞİM ÇAĞINDA AVRUPA VE OSMANLI

15

Değişim Çağında Avrupa ve Osmanlı 114

ULUSLARARASI İLİŞKİLERDE DENGE STRATEJİSİ (1774-1914)

16

Uluslararası İlişkilerde Denge Stratejisi (1774-1914) 120

▶ Extra Sarmal Deneme Sınavı - 5 128

DEVRİMLER ÇAĞINDA DEĞİŞEN DEVLET-TOPLUM İLİŞKİLERİ

17

Devrimler Çağında Değişen Devlet-Toplum İlişkileri 130

SERMAYE VE EMEK

18

Sermaye ve Emek 138

XIX VE XX. YÜZYILDA DEĞİŞEN GÜNDELİK HAYAT

19

XIX ve XX. Yüzyılda Değişen Gündelik Hayat 144

▶ Değerlendirme Testi - 3 (14-19. Üniteler) 150

▶ Extra Sarmal Deneme Sınavı - 6 152

20. YÜZYIL BAŞLARINDA OSMANLI DEVLETİ VE DÜNYA

20

20. Yüzyıl Başlarında Osmanlı Devleti ve Dünya 154

MİLLÎ MÜCADELE

21

Millî Mücadele 162

ATATÜRKÇÜLÜK VE TÜRK İNKILABI

22

Atatürkçülük ve Türk İnkılabı 170

▶ Değerlendirme Testi - 4 (20-22. Üniteler) 178

▶ Extra Sarmal Deneme Sınavı - 7 180

İKİ SAVAŞ ARASINDAKİ DÖNEMDE TÜRKİYE VE DÜNYA

23

İki Savaş Arasındaki Dönemde Türkiye ve Dünya 182

II. DÜNYA SAVAŞI SÜRECİNDE TÜRKİYE VE DÜNYA

24

II. Dünya Savaşı Sürecinde Türkiye ve Dünya 188

II. DÜNYA SAVAŞI SONRASINDA TÜRKİYE VE DÜNYA

25

II. Dünya Savaşı Sonrasında Türkiye ve Dünya 194

▶ Extra Sarmal Deneme Sınavı - 8 200

TOPLUMSAL DEVRİM ÇAĞINDA DÜNYA VE TÜRKİYE

26

Toplumsal Devrim Çağında Dünya ve Türkiye 202

21. YÜZYILIN EŞİĞİNDE TÜRKİYE VE DÜNYA

27

21. Yüzyılın Eşiğinde Türkiye ve Dünya 208

▶ Değerlendirme Testi - 5 (23-27. Üniteler) 214

▶ Extra Sarmal Deneme Sınavı - 9 216

▶ Cevap Anahtarı 218

TEST 3 : ORTA ÇAĞ'DA DÜNYA

1. Orta Çağ ile ilgili aşağıdaki bilgilerden hangisi yanlıştır?

- A) Büyük bir hastalık salgını yaşanmıştır.
- B) Demokratikleşme çabasına girilmemiştir.
- C) Avrupa'da feodal rejim ve skolastik felsefe hâkim olmuştur.
- D) Sosyal boyutlu büyük bir hareketlenme ile zemini hazırlanmıştır.
- E) Başlangıç ve bitişle ilgili olarak bazı siyasi gelişmeler belirlenmiştir.

2. Aşağıdakilerden hangisi Orta Çağ'da meydana gelen olaylar arasında yer almaz?

- A) Osmanlı Devleti'nin kurulması
- B) Magna Carta'nın imzalanması
- C) Moğol İmparatorluğu'nun yıkılması
- D) Roma İmparatorluğu'nun kurulması
- E) Katolik-Ortodoks bölünmesinin yaşanması

3. Orta Çağ'da kurulan devletler arasında aşağıdakilerden hangisi sayılabilir?

- A) Hitit Devleti
- B) Safevi Devleti
- C) Kutluk Devleti
- D) Med İmparatorluğu
- E) Asya Hun İmparatorluğu

4. Orta Çağ Avrupası'na damga vuran feodalizmin özellikleri arasında aşağıdakilerden hangisi sayılamaz?

- A) Merkezî otoriteye zarar vermiştir.
- B) Özgür düşüncüyü egemen kılmıştır.
- C) Soyluların nüfuzunu önemsemmiştir.
- D) Derebeylerinin etkinliğine dayanmıştır.
- E) Üniter devlet yapısını zedeleyecek özellikler taşımıştır.

5. Orta Çağ Avrupası'nda skolastik felsefenin hâkim olması ile;

- I. kilisenin vesayet sahibi olması,
- II. serbestiyetçi iktisadi uygulamaların güçlenmesi,
- III. dogmatik düşüncenin, fikir hayatını biçimlendirmesi

durumlarından hangileri arasında bağlantı kurulabilir?

- A) Yalnız I
- B) Yalnız II
- C) Yalnız III
- D) I ve III
- E) II ve III

6. Aşağıdakilerden hangisi Bizans İmparatorluğu'nun özelliklerinden değildir?

- A) Latin dili ve kültürünü benimsemiştir.
- B) Otokratik yönetim sistemini benimsemiştir.
- C) Kavimler Göçü'nden sonra ortaya çıkmıştır.
- D) Patrikhane kurumunu içerisinde barındırmıştır.
- E) Hristiyanlığın Ortodoksluk Mezhebi'ni kabul etmiştir.

7.



Bu haritada yeşil renk ile gösterilen ve 651 yılında varlığı sona eren siyasi güç ile ilgili olarak,

- I. Sasani Devleti'dir.
- II. Döneminin en büyük imparatorluklarından.
- III. Orta Çağ'ın siyasi organizasyonlarından biridir.

bilgilerinden hangileri doğrudur?

- A) Yalnız I
- B) Yalnız II
- C) Yalnız III
- D) I ve III
- E) I, II ve III

8.



Bu haritada sarı renk ile gösterilen ve 1196-1227 yılları arasında hüküm süren siyasi güç aşağıdakilerden hangisidir?

- A) Uygur Devleti
- B) Sasani Devleti
- C) II. Kök Türk Devleti
- D) Roma İmparatorluğu
- E) Moğol İmparatorluğu



9. Sasani İmparatorluğu'ndaki siyasi meşruiyet ve idari yapı, dini bir karakter taşımıştır.

Buna göre Sasanilerde aşağıdakilerden hangisi etkili olmuştur?

- A) Teokrazi B) Feodalizm C) Demokrasi
D) Federalizm E) Cumhuriyet

10. Orta Çağ'da İslamiyet öncesinde kullanılan idareci unvanları arasında aşağıdakilerden hangisi yer almaz?

- A) Çar B) Şah C) Kağan D) Senyör E) Halife



Bu haritada renkli çizgiler ile bunların gösterdiği yollar aşağıdakilerin hangisinde doğru şekilde gruplandırılmıştır?

	Yeşil	Mavi	Kırmızı
A)	Kürk	Kral	İpek
B)	Kürk	Baharat	İpek
C)	Kürk	İpek	Baharat
D)	İpek	Kürk	Baharat
E)	Kral	İpek	Baharat

12. Orta Çağ'da ticaret ve paranın döndüğü başlıca mekânlar arasında aşağıdakilerden hangisi gösterilemez?

- A) Han B) Gar C) Ribat D) Arasta E) Bedesten

13. Orta Çağ'da uluslararası ticarete konu olan ürünler arasında aşağıdakilerden hangisi yer almaz?

- A) Domates B) Porselen C) Post
D) Tuz E) At

14. Moğol İmparatorluğu'nda en önemli devlet işlerinin görüldüğü kurultayda son söz, tanrısal desteğe sahip sayılan hükümdara aitti. Bu kurumdaki en yüksek seviyeli devlet yöneticileri, ehil kimseler arasından seçilmişlerdi. Ülkede, Moğolların örf, âdet ve uygulamaları çerçevesinde toparlanıp şekillendirilmiş olan Cengiz Yasaları hâkimdi.

Bu bilgiler Moğol İmparatorluğu ile ilgili olarak aşağıdakilerden hangisinin göstergesi değildir?

- A) Görevlendirmede liyakatin gözetildiğinin
B) Yönetimde teokrasinin hâkim olduğunun
C) Hukukun gelenekler çerçevesinde biçimlendirildiğinin
D) Kurultayın bir danışma kurumu olma özelliği gösterdiğinin
E) İlahi unsurların, iktidarın meşruiyeti konusunda önem taşıdığına

15. Orta Çağ'da hükümdarlar daimî ordu bulundurmaya ve XIV. asırdan itibaren sürekli piyade kıtaları oluşturmaya önem vermişlerdir. Bu yüzyıldan sonra İngiltere ve Fransa gibi bazı kraliyetler, ordularında maaşlı asker bulundurmaya yönelmişlerdir. İngiltere ve Osmanlı, Avrupa'da piyadeleri en etkili şekilde kullanan devletler olmuşlardır.

Bu durumun Osmanlılardaki kanıtı olan birlik aşağıdakilerden hangisidir?

- A) Garipler B) Sipahiler C) Akıncılar
D) Yeniçeriler E) Silahtarlar

16. İlk ve Orta çağlarda konargöçerler ile yerleşiklerin ticari ilişkileriyle ilgili olarak, aşağıdakilerden hangisinin yaygınlıkla görüldüğü öncelikle ileri sürülebilir?

- A) Yerleşiklerin tahıl yetiştirip göçebelere satmaları
B) Konargöçerlerin yerleşiklere hububat ihraç etmeleri
C) Köylülerin madenî sanat eserleri üretip konargöçerlere satmaları
D) Göçebelerin sebze ve meyve yetiştirip yerleşik toplumlara sevkîyat yapmaları
E) Kentlilerin eyer ve koşum takımı imal edip konargöçerlere dış satımda bulunmaları

17. İlk ve Orta çağlarda ortaya çıkan hukuki düzenlemelerde görülen farklılıklarda, toplumların aşağıdaki alanlardan hangisiyle ilgili özellikleri daha az rol oynamıştır?

- A) Yazı B) İnanç C) Kültür
D) Gelişmişlik E) Sosyal yapı

TEST 2 : İLK VE ORTA ÇAĞLARDA TÜRK DÜNYASI

1. İslamiyet Öncesi Dönem Türkleriyle ilgili kavramlar arasında; onlu teşkilat, şaman, kut, ülüş, hanedan, hakan ve kağan sayılabilir.

Bu kavramlar ile;

- I. inanç,
II. siyaset,
III. askeriye

alanlarından hangileri ilişkilendirilebilir?

- A) Yalnız I B) Yalnız II C) Yalnız III
D) I ve III E) I, II ve III

2.



Bu haritanın başlığı aşağıdakilerden hangisi olarak konulabilir?

- A) Kavimler Göçü
B) Orta Asya'daki İlk Kültürler
C) Orta Asya'dan Türk Göçleri
D) Orta Asya'da Konargöçer Hayat
E) Gök Tanrı Dini'nin Dünyaya Yayılışı

3. I. İlk teşkilatlı Türk devleti Asya Hun'dur.
II. İlk Müslüman Türk imparatorluğu Gazneli'dir.
III. Tarihte önemli rol oynayan ilk Türk topluluğu İskitlerdir.

Bunlardan hangileri Türklerin tarih sahnesine ilk çıkışlarıyla ilgili örneklerdir?

- A) Yalnız I B) Yalnız II C) Yalnız III
D) I ve II E) I ve III

4. İlk Türk devletleriyle ilgili bir tarih şeridinde aşağıdaki gelişmelerden hangisi bulunmaz?

- A) Büyük Selçuklu Devleti'nin yıkılması
B) II. Kök Türk Devleti'nin sona ermesi
C) Avrupa Hun Devleti'nin kurulması
D) Margos Barışının imzalanması
E) Asya Hun Devleti'nin yıkılması

5. Eski Türklerde görülen; Gök Tanrı tarafından yönetim hak ve yetkilerinin (kut) seçilmiş bir aileye verilip bu hak ve yetkilerin kan bağı yoluyla ailenin tüm erkeklerine geçtiği kabulüne kut inancı veya anlayışı denilmiştir.

Bu tanıma göre kut anlayışının sonuçları arasında aşağıdakilerden hangisi yer almaz?

- A) Merkezî otoritenin zayıf kalması
B) Sık sık taht kavgalarının yaşanması
C) Ülkenin, hanedanın ortak malı sayılması
D) Halkın itaatini sağlamanın iktidar için kolaylaşması
E) İktidarın intikali konusunda irsiyetin önemsiz bir unsur sayılması

6. Ülüş ilkesinin benimsenmiş olması eski Türklerde aşağıdaki kabullerden hangisinin bulunduğu göstergeci sayılabilir?

- A) Gök Tanrı'nın ülkeye iktisadi güç bahsettiğinin
B) Gök Tanrı'nın, halkın üzerinden bereketi aldığı
C) Ülkede, yeterli gücü olan her komutanın hükümdar olduğu
D) Kurultayda, önde gelen memur ve askerlerin söz sahibi olduklarının
E) Kağanın, yetkisini kendi uygun gördüğü devlet adamlarıyla paylaştığının

7. Asya Hun, Kök Türk ve Uygur devletlerinde iktidarın halk tarafından benimsenebilmesi noktasında Gök Tanrı ve kut kavramlarının önemli olduğu görülmektedir.

Bu durum ile aşağıdaki ifadelerden hangisi arasında bağlantı kurulursa, İslamiyet Öncesi Dönem'deki Türkler ile ilgili olarak doğru bir ilişkilendirme yapılmış olur?

- A) Tiranlık sisteminin uygulanması
B) Meşrutiyet idaresinin yerleşmesi
C) Yöneticilerin aynı zamanda din adamı olmaları
D) Dinin, idare ve hukuk kurallarını biçimlendirmesi
E) Siyasi gücün meşruiyetinde manevî unsurların önemli kabul edilmesi

8. Aşağıdakilerden hangisi konargöçer hayatın hâkim olduğu eski Türklerde yaygın olarak kullanılan silahlardan biri değildir?

- A) Ok B) Kılıç C) Kama
D) Mızrak E) Mancınık



9. Asya Hunları Mete Han'ın, Avrupa Hunları Attila'nın, I. Kök Türkler Mukan Kağan'ın, Kutluklar Bilge Kağan'ın, Uygurlar ise Moyen Çur Kağan'ın zamanlarında en parlak dönemlerini yaşamışlardır.

Bu durum, ilgili siyasi güçler hakkında aşağıdakilerden hangisinin bir göstergesidir?

- A) Sonraki dönemlerinin, sözü edilen kağanlarının zamanlarından daha iyi geçmediğinin
B) Bahsi geçen kağanlarından sonra hazinelerine para akışının tamamen durduğunun
C) Sözü edilen hakanları sayesinde daha iyi dönemlere yelken açtıklarının
D) Devletlerinin zayıfladığı dönemlerde hiç savaş kazanamadıklarının
E) Belirli bir dönemden sonra idarede monarşiden vazgeçtiklerinin
10. Orhun Yazıtları'nda Bilge Kağan, "İllyi ilsizleştirdik, kağanlıyı kağansızlaştırdık. Dizliye diz çöktürdük, başlıya baş eğdirdik. Tanrı yardım ettiği için gözle görülmeyen, kulakla işitilmeyen yerleri milletime kazandırdım. Tanrı buyurduğu için dört taraftaki milleti düzene sokup tertitledim." demiştir.

Bilge Kağan'ın bahsettiği bu çalışmalar, Kök Türkler ile ilgili olarak öncelikle aşağıdakilerden hangisiyle bağlantılı sonuçlar doğurmuştur?

- A) Farklı kıtalarda toprak kazanılmasıyla
B) Sosyal devlet anlayışının yerleşmesiyle
C) Dünyanın dört bir tarafına göç edilmesiyle
D) Orta Asya'nın siyasi birliğinin sağlanmasıyla
E) Başarılı gaza ve cihat faaliyetlerinin gerçekleştirilmesiyle
11. Eski Türklerde coğrafya ile oluşan yaşam tarzını anlatan bir öğretmenin öğrencilerine verebileceği örneklerden biri aşağıdakilerden hangisidir?
- A) Şamanlığın etkili olması
B) Fetih politikası izlenmesi
C) Hayvancılıkla uğraşılması
D) Atalar kültürünün görülmesi
E) Kut inancına sahip olunması

12. Eski çağlardan beri Türk cihan hâkimiyeti mefkûresini (idealini) sembolik olarak ifade eden kavram aşağıdakilerden hangisidir?

- A) Kut B) Otağ C) Balbal
D) Kurgan E) Kızılelma

13. Çinliler Asya Hunlarının, Kök Türkler Avarların, Uygurlar Kutlukların, Kırgızlar Uygurların, Moğollar ise Kırgızların siyasi varlıklarının son bulmasında etkili olmuşlardır.

Bu bilgiden de yararlanarak, eski Türk devletlerinin yıkılışında aşağıdakilerden hangisinin etkili olduğundan bahsedilemez?

- A) Dış tehdidin B) Gaza politikasının
C) Komşu tehlikesinin D) Kadim düşmanlığın
E) Türkler arası rekabetin

14. Avrupa Hun Devleti'nin 434 yılında imzaladığı Margos Barışı'yla Bizans'ı vergiye bağlaması, Türkler ile ilgili olarak;

- I. siyasi üstünlük kurma,
II. ekonomik kazanım sağlama,
III. diplomatik alanda geri adım atma

sonuçlarından hangilerini ortaya çıkarmıştır?

- A) Yalnız II B) I ve II C) I ve III
D) II ve III E) I, II ve III

15. Kavimler Göçü'nün sonuçları arasında aşağıdakilerden hangisi yer alır?

- A) Asya Hun Devleti kuruldu.
B) Doğu Roma İmparatorluğu yıkıldı.
C) Orta Asya'nın etnik yapısı çeşitlendi.
D) Avrupa'da skolastisizm hâkim hâle geldi.
E) Avrupa ülkelerinde federalizm egemen oldu.

16. Uygurların, Çin üzerinde baskı kuran bir ticari politika uygulamak suretiyle bazı ürünleri Çinlilere zorla ve fazla fazla sattıkları olmuştur.

Uygurlar, Çinliler ile olan bu tür ilişkilerini;

- I. at satışı yapma,
II. siyasi tehdit oluşturma,
III. ipek pazarlamaya çalışma

politikalarından hangileri üzerine kurmuşlardır?

- A) Yalnız II B) Yalnız III C) I ve II
D) II ve III E) I, II ve III



1. VII. yüzyılda Arabistan'da; 610'da Hz. Muhammed'e ilk vahiy gelmiş, Müslümanlar Mekke'den 615'te Habeşistan'a ve 622'de Medine'ye göç etmişler, 622'de İslam Devleti kurulmuş ve Medine Vatandaşlık Sözleşmesi hazırlanmış, Mekkeli müşrikler ile 624'te Bedir, 625'te Uhut ve 627'de Hendek savaşları gerçekleştirilmiş, 628'de Hudeybiye Antlaşması imzalanmış, 629'da Bizans ile Mute Savaşı yapılmış ve 630'da Mekke fethedilmiştir.

Bu gelişmeler ile aşağıdaki yargılardan hangisi arasında ilişki kurulamaz?

- A) Kitabı olan ilk din ortaya çıkmıştır.
B) Diplomatik bir belge hazırlanmıştır.
C) Deniz aşırı bir göç hareketi yaşanmıştır.
D) Müşriklerle karşı savunma savaşı verilmiştir.
E) Müslümanlar iki kıtada varlık göstermişlerdir.

2. İslamiyet'in doğduğu sıralarda; Doğu Roma İmparatorluğu ve Habeşistan'da Hristiyanlık, Medine Sitesi'nde ise İslamiyet resmen kabul gören dinler idi.

Bu bilgiye göre;

- I. dinlerin imparatorluklara özel kaldığı,
II. semavi dinlerin birçok devlette kabul gördüğü,
III. Hristiyanlığa sadece bir kıta üzerinde rastlandığı

ifadelerinden hangilerine ulaşılabilir?

- A) Yalnız I B) Yalnız II C) Yalnız III
D) I ve II E) I ve III

3. Cahiliye Dönemi olarak da anılan İslamiyet Öncesi Dönem Arabistanı'nda; okuma yazma oranı çok düşük kalmış, kız çocukları diri diri toprağa gömülmüş, Allah'a inanılsa da ona ulaşmak için aracı olarak kabul edilen putlara da ibadet edilip adaklar adanarak kurbanlar kesilmiş, Kâbe'deki putlar savaşmanın yasak olduğu Haram Aylar'da (Zilkade, Zilhicce, Muharrem, Recep) ziyaret edilerek böylece hac gerçekleştirilmiş ayrıca bu dört ayda kurulan panayırarda Arabistan'daki farklı devletlerden gelip Mekke'de bir araya gelen Araplar alışverişin yanı sıra şiir yarışmaları düzenleyerek en güzel yedi şiiri Muallakât-ı Seb'a adıyla Kâbe'nin duvarına asmışlardır.

Bu metinde İslamiyet Öncesi Dönem Arabistanı ile ilgili olarak aşağıdakilerden hangisine değinilmemiştir?

- A) Dinî ritüel B) Örf ve âdet C) Siyasi birlik
D) Edebî çalışma E) Kültürel faaliyet

4. Hz. Muhammed Dönemi'nde gerçekleştirilen savaşlarda;
- I. İslamiyet'i yaymak,
II. Müslümanları korumak,
III. ihtida hareketlerini azaltmak

amaçlarından hangileri güdülmüştür?

- A) Yalnız I B) Yalnız II C) Yalnız III
D) I ve II E) I, II ve III

- 5.



Bu haritaya göre İslamiyet Öncesi Dönem Arabistanı ile ilgili olarak;

- I. farklı siyasi güçlere ev sahipliği yaptığı,
II. çok uluslu bir imparatorluğu barındırdığı,
III. Afrika Kıtası'na yakın bir konumda bulunduğu

yargılarından hangilerine varılabilir?

- A) Yalnız I B) I ve II C) I ve III
D) II ve III E) I, II ve III

6. Medine'ye hicretten sonra 622'de Hz. Muhammed tarafından Medine Vatandaşlık Sözleşmesi hazırlanıp yürürlüğe sokulmuş ve 628'de Mekkeli müşriklerle Hudeybiye Antlaşması imzalanmıştır.

Bu gelişmeler ile aşağıdakilerden hangisi ilişkilendirilemez?

- A) Diplomatik ilişkiye girilmesi
B) İlk İslam devletinin kurulması
C) Medine'de dinî birliğin sağlanması
D) Hz. Muhammed'in devlet başkanı olması
E) Müslümanların siyasi bir güç olarak tanınmaları

7. Dört Halife Dönemi'nin halifeleri arasında aşağıdakilerden hangisi yer almaz?

- A) Hz. Ali B) Hz. Ömer C) Hz. Hasan
D) Hz. Osman E) Hz. Ebubekir



8. Hz. Ebubekir Dönemi'nde ridde savaşları yapılarak mürtedler (dinden dönenler) ile savaşılmış ve Mushaf adıyla Kur'an nüshaları iki kapak arasına alınmış; Hz. Ömer Dönemi'nde sınırlar oldukça genişletilmiş ayrıca idari, askerî ve mali alanlarda teşkilatlanmaya gidilmiş; Hz. Osman Dönemi'nde donanma kurulmuş ve Kur'an nüshaları çoğaltılarak farklı beldelere gönderilmiş; Hz. Ali Döneminde ise ülkede Hz. Ayşe, Muaviye ve Hariciler ile sorunlar yaşanarak Cemal, Siffin ve Nehrevan savaşları yapılmıştır.

Buna göre Dört Halife Dönemi ile ilgili aşağıdaki yargılardan hangisi yanlıştır?

- A) Fetih politikası güdülmüştür.
B) Deniz kuvvetleri oluşturulmuştur.
C) Kur'an bir kitap hâline getirilmiştir.
D) Devletin giderleri sürekli olarak azalmıştır.
E) İrtidat (İslam'dan dönüş) olayları yaşanmıştır.
9. Emeviler Dönemi'nde halifeliğin babadan oğla geçmeye başlaması aşağıdakilerden hangisinin kanıtıdır?
- A) Teokratik düzene geçiş yapıldığının
B) Hanedanlık usulünün terk edildiğinin
C) İrsiyete dayalı iktidarın reddedildiğinin
D) Hilafetin saltanata dönüştürüldüğünün
E) İlahi kaynaklı iktidar anlayışının bırakıldığıının
10. 751'de yapılan Talas Savaşı'nda Karluklar, Çinliler ile savaşan Abbasilere yardım etmişlerdir.
- Bu bilgi aşağıdakilerden hangisini kanıtlamada kullanılabilir?**
- A) Türkler ile Müslüman Arapların müttefik hareket ettiklerini
B) Müslümanlar ile Hristiyanların karşı karşıya kaldıklarını
C) Haçlılara karşı Türklerin mücadele ettiklerini
D) Orta Asya'nın siyasi birliğinin sağlandığını
E) Çinlilerin ittifak arayışına girdiklerini

11. Müslümanlar; Hz. Ali Dönemi'nde Hakem Olayı'ndan sonra Hz. Ali ve Muaviye taraftarları ile Hariciler olmak üzere üç, Kerbela Olayı'ndan sonra ise Sünni ve Şii olarak iki gruba ayrılmışlardır.

Buna göre Müslümanlar ile ilgili olarak aşağıdakilerden hangisi söylenebilir?

- A) İş bölümüne gittikleri
B) Farklı dinlere girdikleri
C) Dış tehditlerden dolayı bölündükleri
D) Keskin ayrımlaşmalarını yumuşattıkları
E) Farklı görüş ve mezheplere bölündükleri

12. Mısır'da kurulan ilk Müslüman Türk devleti Tolunoğulları Devleti (868-905), Mekke ve Medine'ye hâkim olan ilk Türk İslam devleti ise İhşitler Devleti (935-969) olmuştur.

Buna göre aşağıdakilerden hangisi savunulamaz?

- A) Müslüman Türkler Hicaz'a egemen olmuşlardır.
B) Farklı kıtalarda Türk İslam siyasi varlığı görülmüştür.
C) Kuzey Afrika'daki Müslüman Türk siyasi varlığı bin yılı aşmıştır.
D) Türk İslam dünyasında ulus devlet modeli zamanla güçlenmiştir.
E) Müslüman Türklerin İslam dünyasındaki siyasi etkinliği artmıştır.

13. Dört Halife (632-661) ve Emeviler (661-750) dönemlerinde yapılan fetihlerle ihtidâ (İslam'a giriş, hidayete erme) hareketleri artmıştır. Fakat Emevilerin izledikleri mevali (özgür köle) siyaseti sebebiyle Arap olmayan Müslümanlar ikinci sınıf sayıldıkları için bu milletler, Şuubiye akımını başlatıp zaman içerisinde ayaklanmış ve Emevi Devleti'nin yıkılışında rol oynamışlardır.

Bu bilgilere göre;

- I. askerî mücadeleler sonucunda semavi bir dinin yayıldığı,
II. Emevilerin, İslam'ın özüne uymayan bir politika izledikleri,
III. Emevi ülkesinde farklı toplumların isyan çıkardıkları

ifadelerinden hangilerine ulaşılabılır?

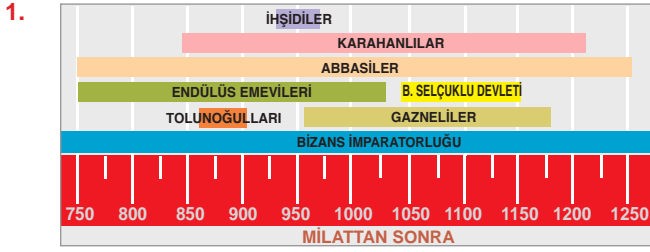
- A) Yalnız I B) Yalnız II C) Yalnız III
D) I ve II E) I, II ve III

14. İslam dünyasında Farabi ve İbn Rüşd, Aristo'nun eserlerini şerh etmişlerdir. Selçuklu Dönemi âlimlerinden İmam Gazali, Tehâfütü'l-Felâsife adlı bir eser yazmıştır. Bu esere bir nazire olarak İbn Rüşd, Tehâfütü Tehâfütü'l-Felâsife adlı bir eser ortaya koymuştur.

Bu bilgilerden hareketle aşağıdakilerden hangisi ileri sürülebilir?

- A) Müslüman bilginlerin felsefe konusunda çalışma ve tartışmalar yaptıkları
B) Türk bilginlerin naklî ilimlere özel çalışmalarını yazınlarına yansıttıkları
C) Arap dünyasında dinî ilimler konusunda yoğun çalışmalara girişildiği
D) İslam âleminde sözlü kültürün kitabî kültüre göre baskın olduğu
E) Müslümanların akli ilimlerle ilgilenmedikleri

TEST 2 : TÜRKLERİN İSLAMİYET'İ KABULÜ VE İLK TÜRK İSLAM DEVLETLERİ



Yalnız bu tarih şeridine göre aşağıdakilerden hangisi söylenemez?

- Tarih Çağları'nın ilkinde bazı devletlerin kurulduğu
- Aynı dönemde Türk ve Arap devletlerinin görüldüğü
- Birbirleriyle çağdaş Müslüman devletlerin bulunduğu
- Hz. İsa'dan sonraki dönemde çok uluslu siyasi güce rastlandığı
- Semavi dinleri kabul eden bazı devletlerin aynı dönemde hüküm sürdükleri

2. **Aşağıdakilerden hangisi Türk İslam tarihine ait bir gelişme değildir?**

- İhşitlerin Hicaz'a hâkim olmaları
- İtil Bulgarlarının Müslüman olmaları
- Berberîlerin İslamiyet'i kabul etmeleri
- Tolunoğullarının Mısır'da devlet kurmaları
- Satuk Buğra Han'ın Abdülkerim adını alması

3. Türk dünyasına İslamiyet, Maveraünnehir bölgesinden başlayarak yayılmıştır. Şehirlerdeki tekke ve medreselerde görev yapan âlimler, Türkistan'ın en ücra yerlerine kadar kervanlar aracılığıyla ulaşarak İslamiyet'i Türk boylarına anlatmışlardır. Neticede; Karluk, Yağma, Çiğil ve Tuhsi başta olmak üzere Türkler Müslüman olmuşlardır. Oğuzlar, X. yüzyılın ikinci yarısında İslam'ı benimsemeye başlamışlardır. XI. asrın sonlarına gelindiğinde ise Orta Asya'daki Türklerin hemen hemen tamamı Müslüman olmuş bir duruma gelmişlerdir.

Bu metinden hareketle aşağıdakilerden hangisi ileri sürülemez?

- Türklerin ilk defa din değiştirdikleri
- Din adamlarının Orta Asya'daki inançsal değişimde etki oldukları
- Türkler arasında İslamiyet'in İran ve Horasan civarından yayıldığı
- Orta Asya'da İslam'ın yayılmasında ticari faaliyetlerin etkili olduğu
- İslamiyet'in Türkler arasında yayılmasının zaman aldığı ve aşamalı şekilde gerçekleştiği

4. **Talas Savaşı'nın dünya kültür tarihi açısından doğurduğu en önemli sonuç aşağıdakilerden hangisidir?**

- Karluk-Abbasi ittifakının galip gelmesi
- İpek kâğıt üretiminin Çin'in dışına taşması
- Türklerin Araplar ile yakınlaşmaya girmeleri
- Orta Asya'nın Çin istilasına uğramaktan kurtulması
- Türklerin Abbasi devlet kademelerinde yer almaya başlamaları

5. Afşin, İhşit ve Baçuroğulları gibi aileler Abbasi Devleti'nin hizmetinde yer almışlardır.

Bu durum ile aşağıdakilerden hangisi arasında doğrudan bağlantı kurulabilir?

- Berberîlerin ihtidâ etmeleri
- Müslüman Türklerin imparatorluk kurmaları
- Türklerin Arap devlet kademelerinde yer almaları
- Farsların Abbasi Devleti idaresinde yer bulmaları
- Arap ve Türk devletlerinin diplomatik münasebetler içeresine girmeleri

6. Berberîler; tarihsel süreç içerisinde tabiat güçlerine, Yahudilik ve Hristiyanlık dinlerine inanmışlardır. Hz. Osman ve Emeviler dönemlerinde Müslümanlar ile çarpışan Berberîler, Kartaca'nın Müslümanlar tarafından fethinden sonra İslamiyet'e girmiş ayrıca zamanla Araplaşmışlardır.

Bu bilgilerle aşağıdaki yargılardan hangisi doğrulanamaz?

- Kuzey Afrika'da semavi dinlere inanılmıştır.
- Müslümanların fetihleri ihtidâya zemin hazırlamıştır.
- Emeviler Dönemi'nde irtidat hareketlerinde artış yaşanmıştır.
- Dört Halife Dönemi'nde Müslümanlar, Berberîler ile mücadele etmişlerdir.
- Berberîler, Araplar karşısında güçlü bir millî kültür varlığı sergileyememişlerdir.

7. **Eski Türklerin aşağıdaki özelliklerinden hangisi, Türklerin Müslüman olmalarını kolaylaştıran nedenler arasında sayılamaz?**

- Totemlere sahip olma
- Tek bir tanrıyı benimseme
- Ölümden sonraki hayata inanma
- Yardımlaşma ve dayanışmayı önemseme
- Yüce amaçlar için savaşılmaya önem verme



8.



Bu harita;

- I. Türkistan'da savaş yapılmıştır.
- II. Asya'da birçok Türk devleti hüküm sürmüştür.
- III. Maveraünnehir ve Horasan bölgelerinde mücadeleler yaşanmıştır.

tezlerinden hangilerine dayanak yapılabilir?

- A) Yalnız III B) I ve II C) I ve III
D) II ve III E) I, II ve III

9. Tuğrul Bey Dönemi'nde Selçuklular, Sultan Mesut'un yönetimindeki Gazneliler ile 1040'ta yaptıkları Dandanakan Savaşı'nı kazanmışlardır. Bu savaşla; Gazneli Devleti çözüme sürecine girip en son Gurların isyanıyla 1187'de yıkılırken, Büyük Selçuklu Devleti ise kuruluşunu tescil etmiştir.

Bu gelişmeler ile aşağıdakilerden hangisi arasında bağlantı kurulamaz?

- A) Türk ülkesinde iç sorunların yaşanması
B) Müslüman güçlerin çıkarlarının çatışması
C) Türk güçlerinin birbirleriyle mücadele etmeleri
D) Anadolu'da önemli bir muharebenin gerçekleşmesi
E) Bir devlet kurulurken diğerinin yıkılışa sürüklenmesi

10. Aşağıdakilerden hangisi Türklerde İslamiyet'in kabulüyle ortaya çıkan gelişmeler arasında yer almaz?

- A) Kut anlayışının geçerli sayılması
B) Divan, vezir gibi kavramların görülmesi
C) Hükümdarın halifeye bağlılık bildirmesi
D) Hükümdarın menşur alma yoluna gitmesi
E) Hükümdar için sultan unvanının kullanılması

11. Selçukluların; Bizanslılar ile Pasinler, Malazgirt ve Miryokefalon savaşlarını yapmaları aşağıdaki siyasetlerden hangisini izlediklerinin doğrudan kanıtıdır?

- A) Cihat B) İskân C) Mevali
D) Hoşgörü E) Milliyetçilik

12. Büyük Selçuklu Devleti'nin yıkılışında etkili olan nedenler arasında aşağıdakilerden hangisi yer almaz?

- A) Moğollardan yenilgi alınması
B) Küstürülen Türkmenlerin isyan etmeleri
C) Gazneli Devleti'nin Selçuklularla savaşması
D) Atabeylerin bağımsızlık ilanında bulunmaları
E) Şii Fatımi Devleti'nin bölücü ve yıkıcı çalışmalar yapması

13. Türkler, Kürtler, Acemler ve Berberilerin Müslüman olmalarında;

- I. Muaviye,
- II. Hz. Ömer,
- III. Hz. Osman

dönemlerinin hangilerinde yapılan fetihler etkili olmuştur?

- A) Yalnız III B) I ve II C) I ve III
D) II ve III E) I, II ve III

14. Edip Ahmet Yüknekî tarafından Uygur alfabesiyle kaleme alınan Atabetü'l-Hakâyık, XII. yüzyıla ait bir öğüt ve ahlak kitabıdır. Adı "Hakikatlerin Eşiği" anlamına gelen bu eser, Karahanlı Emiri Muhammed Dâd Sipehsalar'a sunulmuştur.

Bu bilgilere göre Atabetü'l-Hakâyık ile ilgili olarak aşağıdakilerden hangisi söylenemez?

- A) Nasihatname türünde telif edilmiştir.
B) 1100'lü yıllarda ortaya konulmuştur.
C) İhtidâ hareketlerini önlemeyi amaçlamıştır.
D) İnsan anlayış ve davranışlarıyla ilgilenmiştir.
E) Müslüman Türk bir hükümdara sunulmuştur.

15.

DEVLETLER

Irak Selçukluları (1118-1194)
Kırmızı Selçukluları (1048-1187)
Suriye Selçukluları (1078-1117)
Türkiye Selçukluları (1077-1308)

ATABEYLİKLER

Şam Atabeyliği (Börler) (1104-1154)
Musul ve Halep Atabeyliği (Zengiler) (1127-1233)
Azerbaycan Atabeyliği (İldenizliler) (1148-1225)
Fars Atabeyliği (Salgurlular) (1148-1286)

Bu tablonun başlığı aşağıdakilerden hangisi olmalıdır?

- A) Anadolu'da İlk Türk Beylikleri Dönemi
B) Anadolu'da İkinci Türk Beylikleri Dönemi
C) Anadolu Selçuklularının İlk Dönemlerindeki Siyasi Oluşumlar
D) Büyük Selçuklu Devleti'ni Oluşturan Siyasi Organizasyonlar
E) Büyük Selçuklu Devleti'nin Çözülmesiyle Ortaya Çıkan Siyasi Yapılar



1.



Ahmet Öğretmen, öğrencilerine, tarih dersinde sınıfa getirdiği bu Osmanlı armasının incelenmesinde tarih biliminin yararlandığı bilgi alanını sormuştur.

Bu soruya öğrencilerin aşağıdakilerden hangisini cevap olarak vermeleri beklenir?

- A) Filoloji B) Epigrafi C) Heraldik
D) Paleografi E) Diplomatik

2. Tarih araştırmalarında; ilk safha olan tarama esnasında belgeler toplanır, sonra tasnife geçilerek bu belgeler amaca uygun şekilde gruplanır, akabinde tahlil yapılarak belgelerin yeterlilik durumu tespit edilir, sonrasında gelinen tenkit aşamasında belgelerin doğruluk, tutarlılık ve güvenilirlik durumları belirlenip en son olarak terkip safhasında gerekli son düzenleme ve yerleştirmeler yapılarak eser meydana getirilir.

Bu metinde aşağıdakilerin hangisinden bahsedilmektedir?

- A) Tarihin metodundan
B) Zamanın taksiminden
C) Tarihe yardımcı bilimlerden
D) Tarih biliminin özelliklerinden
E) Tarih öğrenmenin faydasından

3. Güneş yılı esaslı bu takvimde 1 yıl; 365 gün 6 saattir. Miladi takvim ile arasında 584 yıllık fark bulunmaktadır. Osmanlı Devleti'nde mali işleri düzenlemek amacıyla 1839'dan itibaren kullanılmış olup, mart ayı mali yılbaşı olarak kabul edilmiştir.

Bu metinde, Türklerin kullandıkları aşağıdaki takvimlerden hangisi anlatılmıştır?

- A) Hicri B) Rumi C) Celâli
D) Miladi E) On İki Hayvanlı

4. MÖ 753 tarihi ile ilgili aşağıdaki bilgilerden hangisi doğrudur?

- A) VII. yüzyılın 2. yarısında yer alır.
B) VIII. yüzyılın 2. yarısında yer alır.
C) XVIII. yüzyılın 2. yarısında yer alır.
D) VIII. yüzyılın 3. çeyreğinde yer alır.
E) VIII. yüzyılın 2. çeyreğinde yer alır.

5. İlk Çağ uygarlıkları ile ilgili aşağıdaki bilgilerden hangisi yanlıştır?

- A) Mısırlılar ve Hititler hiyeroglif yazısı, Fenikeliler ise alfa-be kullanmışlardır.
B) Sümerler, dinî sebepli gökyüzü gözlemlerinin sonucunda ay takvimini bulmuşlardır.
C) Bergamalılar, parşömen kâğıdını icat etmiş ve Asklepiyon Sağlık Merkezini kurmuşlardır.
D) Mısırlılar, tarım işlerini düzenleme amaçlı çalışmalarının sonucunda güneş takvimini icat etmişlerdir.
E) Yunanlar, ilk fablları ortaya koymaları ve tapates denilen halı ve kilimleri dokumaları ile ünlenmişlerdir.

6. • Türkiye'deki ilk köy yerleşim yeridir.
• Dünyadaki en eski şehir yerleşkesidir.
• Bugünkü Türkiye sınırları içerisinde kalan en eski mağara yerleşim yeridir.
• "Arkeologları sersemleten kazı alanı" olarak da bilinmekte olup, insanların göçebe iken de tapınak yaptıklarını ortaya koyan bölgedir.

Bazı önemli özellikleri verilen bu Tarih Öncesi Dönem mekânları arasında aşağıdakilerden hangisi yer almaz?

- A) Çayönü B) Çatalhöyük C) Alacahöyük
D) Göbeklitepe E) Yarımburgaz

7. Aşağıdakilerden hangisi Orta Çağ'a ait bir gelişmedir?

- A) Roma'nın kurulması
B) Telepinu Kanunları'nın hazırlanması
C) Kadeş (Suriye) Savaşı'nın yapılması
D) Büyük İskender'in, Asya Seferi'ni düzenlemesi
E) Avrupa'da Kara Veba denilen salgının yaşanması

8. Orta Çağ Avrupası ile ilgili aşağıdaki bilgilerden hangisi yanlıştır?

- A) Feodal rejim uygulanmıştır.
B) Haçlı Seferleri'ne girilmiştir.
C) Aristokrasinin etkisinde kalınmıştır.
D) Burjuvazinin siyasi nüfuzu altına girilmiştir.
E) Fikir hayatında kilisenin vesayeti kabul edilmiştir.

9. Kök Türkler; saban, pulluk, orak, kürek ve değirmen taşı kullanmış ayrıca Hunlar zamanında açılan Tötö Kanalı'ndan yararlanmışlardır.

Buna göre Kök Türklerin aşağıdakilerden hangisiyle uğraştıkları kesinlikle savunulabilir?

- A) Tarımla B) Zanaatla C) Ticaretle
D) Madencilikle E) Hayvancılıkla

10. Tarım uğraşısı ve zaman içerisinde doğurduğu sonuçlar ile;

- I. artı ürünün ortaya çıkması,
II. sosyal ve siyasi yapılanmalara gidilmesi,
III. toplumsal tabakalaşmanın meydana gelmesi

gelişmelerinden hangileri arasında bağlantı kurulabilir?

- A) Yalnız I B) I ve II C) I ve III
D) II ve III E) I, II ve III

11. Orta Çağ ticareti ile ilgili olarak aşağıdakilerden hangisi yanlıştır?

- A) Kürk Yolu, İpek Yolu'nun kuzeyinden uzanmıştır.
B) İpek Yolu sayesinde Çin'in ipeği çeşitli coğrafyalara taşınmıştır.
C) Domates ve patates, yaygın olarak ticareti yapılan gıdalar arasında yer almıştır.
D) At, deve, katır, gemi gibi vasıtalarla ve kervanlar yoluyla ticaret gerçekleştirilmiştir.
E) Baharat Yolu sayesinde baharat, Hindistan'dan deniz yoluyla Mısır ve Basra'ya ulaştırılmıştır.

12. Aşağıdakilerden hangisi On İki Levha Kanunları'nın özellikleri arasında yer alır?

- A) Tarih Öncesi Dönem'de hazırlanmıştır.
B) Yunanlar tarafından ortaya konulmuştur.
C) Roma hukukunun son aşamasını oluşturmuştur.
D) Günümüz Avrupa hukukunun temellerini atmıştır.
E) Semavi kitaplardan seçilmiş esaslara dayandırılmıştır.

13. Türklerde İslamiyet öncesinde kullanılan hükümdarlık alametleri arasında aşağıdakilerden hangisi sayılmaz?

- A) Tuğ B) Çetr C) Otağ D) Kotuz E) Hutbe

14. Hz. Ömer Dönemi faaliyetleri arasında aşağıdakilerden hangisi yer almaz?

- A) Hicri takvim hazırlanmıştır.
B) Mushaf ortaya konulmuştur.
C) Berid teşkilatı geliştirilmiştir.
D) Ordugâh şehirler kurulmuştur.
E) Askerî ikta sistemi uygulanmıştır.

15. Endülüs Emevi Devleti'nin yıkılmasından sonra İspanya'da ortaya çıkan siyasi oluşumlara ait dönemler arasında aşağıdakilerden hangisi yer almaz?

- A) Murâbitlar B) Muvahhidler
C) Tolunoğulları D) Benî Ahmer Devleti
E) Bağımsız Emirlikler

16. I. İbn Sînâ
II. İbn Bâcce
III. Mûsâ b. Meymûn

Endülüs menşeli olup Avrupa'yı etkileyen Orta Çağ Müslüman bilginleri arasında bunlardan hangileri sayılabilir?

- A) Yalnız I B) Yalnız II C) I ve II
D) II ve III E) I, II ve III

17. Nureddin Zengi'nin teşvikiyle 1169-1171 yıllarında Mısır'daki Fâtîmi rejimini yavaş yavaş etkisiz hâle getirdi. Sonra Fâtîmi hilafetine son vererek 1171'de Mısır'da Abbasiler adına hutbe okuttu. Nureddin Zengi ölünce 1174'te Suriye'ye hâkim oldu. 1187'deki Hittin Savaşı'nda Haçlıları yenip Kudüs'ü onlardan geri aldı. Bu zaferi, III. Haçlı Seferi'nin düzenlenmesine yol açtı. Türk İslam tarihinin en tanınmış kahramanlarından biri olan bu şahsı; Mehmet Akif Ersoy "Şark'ın en sevgili sultanı", Fransız Tarihçi Albert Champdor ise "İslam'ın en saf kahramanı" olarak nitelendirdi.

Bu bilgilerle tanıtılan ünlü şahsiyet aşağıdakilerden hangisidir?

- A) Nasıruddin Tusi B) Gazneli Mahmut
C) Tolunoğlu Ahmet D) Salahaddin-i Eyyubi
E) Tuğçoğlu Muhammed

18. Selçuklularda örfi hukuk dâhilindeki adalet işlerinden sorumlu yüksek düzey görevli aşağıdakilerden hangisidir?

- A) Kadı B) Melik C) Emir-i dad
D) Naib-i kadı E) Gulemân-ı saray

EXTRA SARMAL DENEME SINAVI

2



1. Ahmet, "Türkçenin tarihini ve Batı ve Doğu dilleri ile olan alışveriş ve etkileşimlerini araştırıyorum." demiştir.

Buna göre Ahmet'in başvurması gereken bilim dalı aşağıdakilerden hangisidir?

- A) Epigrafi B) Filoloji C) Toponimi
D) Sigilografi E) Etnografya

2. Hasan, "Bir zaman makinem olsaydı; ilk defa madenî para bastıran, Beşyüzler Meclisi adıyla ilk halk meclisini kuran, Pankuş adlı soylu meclisini oluşturan ve matematikte dört işlemi ilk defa kullanan İlk Çağ uygarlıklarını ziyaret etmek isterdim." demiştir.

Buna göre Hasan'ın görmek istediği uygarlıklar arasında aşağıdakilerden hangisi sayılmaz?

- A) Frig B) Hitit C) Mısır D) Lidya E) Yunan

3. İlk Çağ'da Anadolu'daki dinî inanışlar ile ilgili aşağıdaki bilgilerden hangisi yanlıştır?

- A) İyonlar Yunan tanrılarına inanmışlardır.
B) Urartularda savaş tanrısı Haldi öne çıkmıştır.
C) Friglerde bereket tanrıçası Kibele'ye inanılmıştır.
D) Hititler zamanındaki Anadolu, Bin Tanrı İli olarak anılmıştır.
E) Lidyalılarda hükümdarlar birer tanrı kral olarak kabul edilmişlerdir.

4. Orta Çağ'daki yönetim tarzları ile ilgili;

- I. Bizans ve Memlük imparatorluklarında otokratik tarzda bir idari anlayış görülmüştür.
II. Sasani İmparatorluğu'ndaki siyasi meşruiyet ve idari yapı, dinî bir karakter taşımıştır.
III. Moğol İmparatorluğu'nda hükümdarın; üyelerinin seçiminde liyakat esasının gözetildiği kurultay adında bir danışma meclisi bulunmuştur.

bilgilerinden hangileri doğrudur?

- A) Yalnız II B) Yalnız III C) I ve II
D) I ve III E) I, II ve III

- 5.

Kumaş ve mücevher gibi değerli eşyaların alınıp satıldığı kapalı çarşı; ticaret bölgesinin çarşı içindeki merkezi

Büyük şehirlerde özellikle zahire türünden ihtiyaç maddelerinin toptan alınıp satıldığı yer; aynı cins tek bir malın satıldığı toptancı hali

Sınır boylarında ve stratejik mevkiilerde askerî amaçlı olarak müstahkem şekilde inşa edilen, sonraları ise giderek içerilerde kalıp ticari amaçlı olarak kullanılan yapı

Çarşı veya alışveriş bölgelerinde aynı işi yapan esnafın bir arada bulunduğu bölüm; üstü genellikle örtülü bir sokağın iki yanında karşılıklı olarak sıralanan ve aynı cins malları satan dükkânlardan meydana gelen çarşı

Orta Çağ'daki Türk İslam devletlerinde görülen ticari mekânlara ait bu bilgilerde aşağıdakilerden hangisi tanımlanmamıştır?

- A) Ribat B) Kapan C) Arasta
D) Panayır E) Bedesten

6. Orta Çağ'da Bizans ordusunda;

- I. Uz,
- II. Kuman,
- III. Peçenek

Türk topluluklarından hangileri ücretli askerlik yapmıştır?

- A) Yalnız II B) Yalnız III C) I ve II
D) I ve III E) I, II ve III

7. İslam dünyasındaki ilk veliaht halife aşağıdakilerden hangisidir?

- A) Yezit B) Me'mun C) Muaviye
D) Abdülmelik E) Harun Reşit

8. X. yüzyılda Mısır'da Tolunoğulları Devleti'ni Tolunoğlu Ahmet, İhşidiler Devleti'ni ise Tuğçoğlu Muhammet kurmuştur.

Bu iki kurucunun ortak yönü aşağıdakilerden hangisidir?

- A) Hicaz'ı ele geçirmeleri
B) Hilafeti ele geçirmeleri
C) Abbasi valiliği görevinde bulunmaları
D) Orta Doğu'nun tümüne egemen olmaları
E) Kuzey Afrika'nın tamamında hüküm sürmeleri

9.

- Museviler din hürriyetine sahip olacaklardır.
- İki taraf da Kureyşli müşrikleri korumayacaktır.
- Yahudiler veya Müslümanlar üçüncü bir tarafa savaş ilan etmeye mecbur kalırlarsa birbirlerine yardım edeceklerdir.
- Medine'ye karşı bir saldırı olduğu takdirde şehrin korunması için taraflar birlikte hareket edeceklerdir.
- İki taraftan biri bir düşmanla barış yaparsa iki taraf da barış şartlarına uyacaktır.
- Üzerinde ihtilafa düşülen herhangi bir konuda Allah'ın resulüne başvurulacaktır.

İslam tarihinin ilk dönemlerinde hazırlanan bu maddele-
rin ait olduğu metin aşağıdakilerden hangisidir?

- A) Veda Hutbesi
B) Medine Sözleşmesi
C) Hilfülfudûl Anlaşması
D) Hudeybiye Antlaşması
E) İslam'a davet mektubu

10. Buhara yakınlarındaki Afşana köyünde doğdu. Kalam, fıkıh, tıp, felsefe, mantık, gök bilimi ve matematik tahsili yaptı. Batı'da "Avicenna", İslam âleminde ise "eş-Şeyhü'r-Reis" olarak nam saldı. Talebesi el-Cüzcânî ile birlikte gözlemevi kurdu. Ufuk açısını ölçmeye yarayan "azimut halkası" adlı büyük bir gözlem aleti yaptı. el-Kânûn fi't-Tıbb isimli ünlü eseri yazdı. Bu eseri, Doğu ve Batı dünyalarında el kitabı olarak kullanıldı. Şeker hastalığını belirledi ve nabız inceleme yöntemiyle damar ve kalp hastalıklarının tespitini yaptı.

Bu bilim insanı aşağıdakilerden hangisidir?

- A) Farabi B) İbn Sina C) İbn Rüşd
D) Uluğ Bey E) Câbir b. Hayyân



1. 1648'de imzalanan Vestfalya Antlaşması ile devletlerin kendi topraklarındaki mutlak egemenliklerinin tanınması ve iç işlerine müdahale edilmemesi garanti altına alınmıştır.

1789'da Fransız Devrimi ile "ulusal egemenlik" ilkesi benimsenmiş, yerel ve bölgesel ayrıcalıklar reddedilmiştir.

Bu bilgilerden hareketle aşağıdakilerden hangisi söylenebilir?

- A) Monarşi terk edilmiştir.
B) Çok partili hayata geçilmiştir.
C) Ulus devlete giden yol açılmıştır.
D) İmparatorluklara güç kazandırılmıştır.
E) Liberal tutum giderek güç kaybetmiştir.

2. İmparatorlar milliyetçi isyanları sert yöntemlerle engellemeye kalkınca Avrupa'da uzun yıllar süren savaşlar yaşandı. Bunun sonucunda birçok Avrupalı dünyanın değişik coğrafyalarına göç ettiği gibi Macar, Leh ve Çek halkları Osmanlıya sığındılar.

Bu bilgiler aşağıdakilerden hangisinin kesin göstergesidir?

- A) Bazı toplumlarda ihtidâ hareketlerinin yaşandığının
B) Siyasi ve askerî gelişmelerin demografik sonuçlar doğurduğunun
C) Ulus devlete giden yolda demografik hareketlerin yaşlandığının
D) Millî monarşilerin çok uluslu imparatorluklar üzerinde hegemonya kurduklarının
E) Osmanlı İmparatorluğu'nun diğer imparatorluklar ile aynı yönde tutum sergilediğinin

3. "Ulus devlet"; sınırları çizilmiş bir ülkede idare etme ve kuvvet kullanma hakkına sahip olan, yönettiği halkı bazı ortak değerler (dil, kültür, uygarlık,...vb.) etrafında birleştirmeyi amaçlayan, siyasi ve sosyal alanlarda "ulus" temeli üzerine kurulmuş olan siyasi organizasyon şeklidir.

Buna göre "ulus devlet" anlayışının Osmanlı Devleti'nde yol açtığı olaylar arasında aşağıdakilerden hangisi gösterilebilir?

- A) Sırp İsyanı
B) Çınar Vakası
C) Softa İsyanları
D) Celâli İsyanları
E) Merkez İsyanları

4. XIX. yüzyılda Osmanlı Devleti'nin Rusya ile yaptığı savaşları kaybedip Bükreş, Edirne ve Berlin antlaşmalarını imzalamak zorunda kalmasıyla Balkanlar'da birçok devlet kurulmuş ve Balkanlar, Kırım, Kafkasya topraklarından Osmanlı ülkesine kitlesel göçler yapılmıştır. Buldukları yerlerde baskı ve katliamlara maruz kalan Müslüman ve Türk nüfus özellikle Anadolu ve İstanbul gibi yerlere göç etmiştir.

Bu bilgilere göre,

- I. Osmanlı ülkesine zorunlu göçler yapılmıştır.
II. Osmanlı ülkesindeki Müslüman nüfus oranı artmıştır.
III. Siyasi gelişmeler demografik değişimlere yol açmıştır.

yargılarından hangilerine ulaşılabilir?

- A) Yalnız I
B) I ve II
C) I ve III
D) II ve III
E) I, II ve III

5. **Aşağıdakilerden hangisi XIX ve XX. yüzyıllarda yüz binlerce kişinin göç ettiği Osmanlı ülkesinde bu muhâceret (göç etme) hareketlerinin sonucunda ortaya çıkan sorunlardan biridir?**

- A) Ulusçu isyanların çıkması
B) Türklerin zulme uğramaları
C) Müslümanların azınlıkta kalmaları
D) Siyasi baskı ve katliamların yaşanması
E) Geçim kaynaklarının paylaşılmasına dönük kavgaların meydana gelmesi

- 6.

Göç Veren Yer	Göç Yılları	Göçmen Sayısı
Kırım ve Kuban	1856-1862	450.000
Kafkaslar	1862-1865	1.500.000
Balkanlar	1877-1878	800.000
Toplam		2.750.000

Farklı tarihlerde çeşitli bölgelerden Anadolu ve İstanbul gibi Osmanlı coğrafyalarına yapılan bazı zorunlu göçlere değinen bu tabloda hareketle aşağıdakilerden hangisi ileri sürülemez?

- A) Kısa sürelerde yoğun göçlerin yapıldığı
B) Doğu Avrupa'da önemli sorunların ortaya çıktığı
C) Karadeniz Havzası'nda demografik hareketlilik yaşandığı
D) Osmanlı ülkesinde Türklük ve Müslümanlık duygularının zayıfladığı
E) Göç hareketlerinin kıtalar arası nüfus değişimlerine neden olabildiği



7. Sanayi İnkılabı sonrasında XIX. yüzyılda Avrupa'da kent sistemi doğmuş ve zamanla birer ekonomik merkez olma özelliği taşıyan büyük kent yapıları ortaya çıkmıştır. Resmî ve özel alanlar birbirlerinden ayrılmıştır. Modernleşen sosyal yapıya uygun olarak yeniden tasarlanan büyük yaşam alanlarında hastane, postane, adliye, üniversite, gar gibi binalar ile bulvar ve caddeler yer bulmuştur.

Bu sürecin sonuçları arasında aşağıdakilerden hangisi gösterilemez?

- A) Altyapı sorunlarının ortaya çıkması
B) Metropollerin eski önemini kaybetmesi
C) Çarpık kentleşme örneklerinin görülmesi
D) Şehirlerde nüfusun giderek yoğunlaşması
E) Sağlık, eğitim ve hijyen hizmetlerinde yetersizliklerin yaşanması

8. Sanayi Devrimi'nden sonra Avrupa'da; herhangi bir mal, hizmet, kurum, kişi ya da fikrin, ilgili sorumlusu tarafından tarifeli ücretinin ödenmesi karşılığında kitle iletişim araçları aracılığıyla olumlu şekilde tanıtılması ve bunun yanı sıra ürünün satışını kolaylaştırmak için müşteriler ile müşteri adaylarına bazı hediyelerin verilmesi uygulamaları önem kazanmıştır.

Bu bilgilere göre, ilgili dönemde;

- I. reklam,
II. promosyon,
III. klasik iktisadi anlayış

unsurlarından hangilerinin önem kazandığından bahsedilebilir?

- A) Yalnız I B) I ve II C) I ve III
D) II ve III E) I, II ve III

9. Lale Devri (1718-1730) ile başlayan süreçte Avrupa menşeli birçok eşya Osmanlı ülkesinde de kullanılmaya başlanmış ve bu doğrultuda XVIII. yüzyılın ortalarından itibaren İstanbul'da Fransız tarzı artık kendini gittikçe hissettirmiştir. Zaman içerisinde ev eşyaları ve dekorasyonu gibi konular da Avrupaileşme topluma yayılmıştır.

Bu gelişmeler ile aşağıdakilerden hangisi ilişkilendirilemez?

- A) Toplumun orta ve alt kesimlerinin konfor taleplerinin azalması
B) Tüketim toplumu olma yolunda ilerlenmesi
C) Frenk usulünün yaygınlaşması
D) Moda kavramının gelişmesi
E) Popüler kültürün yayılması

10. Osmanlı modernleşmesinin;

- I. eğitim,
II. siyaset,
III. gündelik hayat

alanlarından hangilerine etki ettiği savunulabilir?

- A) Yalnız I B) I ve II C) I ve III
D) II ve III E) I, II ve III

11. Herhangi bir konuda halkın benimsediği genel düşünce ya da ortak kanaate "kamuoyu" denilir ve bunu oluşturabilmek için birtakım araçlara ihtiyaç duyulur.

Osmanlı Devleti'nin Klasik Dönem'inde devlet erkânının veya Türk vatandaşların;

- I. gazete çıkarma,
II. dergi yayımlama,
III. çeşitli meclislerde sohbet etme

yollarından hangilerini kamuoyu oluşturma aracı olarak kullandıkları savunulamaz?

- A) Yalnız I B) Yalnız II C) I ve II
D) I ve III E) II ve III

12. "Popüler kültür"; belirli bir dönemde geçerli olan ve hızlıca üretilip tüketilen kültür olup, kendi dönemine ait olan ve bir süre sonra yenilenen bazı araç ve ürünleri kullanır.

Bu bilgidен hareketle "popüler kültür"ün aşağıdakilerden hangisini ortaya çıkardığı ileri sürülebilir?

- A) Sınai imalatı B) Emperyalizmi
C) Klasik kültürü D) Kültür endüstrisini
E) Geleneksel üretimi

13. I. Mesai
II. Kültür endüstrisi
III. Boş zaman endüstrisi

Bunlardan hangileri kapitalizmin insan ve toplum hayatına nüfuz etme ve maddi kâr sağlama araçları arasında yer alır?

- A) Yalnız I B) Yalnız II C) I ve II
D) I ve III E) I, II ve III



1. Mustafa Kemal'in I. Dünya Savaşı'na kadar olan hayatının; içinde bulunduğu toplumun siyasi, sosyal ve kültürel durumundan etkilendiğine aşağıdakilerden hangisi kanıt olarak gösterilebilir?

- A) Yıldırım Orduları Grup Kumandanlığı yapması
- B) Çanakkale Savaşı'nda yarbay olarak bulunması
- C) Annesi istememesine rağmen askerî okul sınavlarına katılması
- D) Padişah tarafından görevlendirilince IX. Ordu müfettişi olarak Samsun'a gitmesi
- E) Mahallesinde oynanan Türk-Yunan mücadelesine dair oyunların da etkisiyle, daha küçüklüğünde milliyetçi duygular edinmesi

2. Mustafa Kemal, küçükken çok kısa bir süre eski usulde eğitim veren mahalle mektebinde sonrasında ise Batılı tarzda öğretim yapan Şemsi Efendi İlkokulunda okumuştur. Daha sonra mülkiye rüştiyesine bir süre gitmiş fakat annesi istememesine rağmen girdiği sınavı kazanarak askerî rüştiyeye geçmiştir. Bunları takiben ise Manastır Askerî İdadisi, İstanbul Harp Okulu ve İstanbul Harp Akademisini bitirmiştir.

Bu bilgilere göre Mustafa Kemal'in eğitim öğrenim hayatı ile ilgili olarak aşağıdakilerden hangisi savunulamaz?

- A) Yaygın eğitim kurumlarında uzun süreli ve kaliteli eğitim aldığı
- B) Geleneksel bir mektepte kısa bir süre okuduğu
- C) İlköğrenimini modern bir okulda tamamladığı
- D) Askerî ortaokul ve lisede tahsil gördüğü
- E) Yüksek dereceli bazı okullara gittiği

3. Selanik, Manastır, İstanbul ve Sofya'daki siyasi, sosyal ve kültürel ortamların, okuduğu kitapların, yerli ve yabancı düşünür ve fikir akımlarının Mustafa Kemal'de güçlendirdiği düşünceler arasında aşağıdakilerden hangisinin bulunması beklenmez?

- A) Özgürlük
- B) Bağnazlık
- C) Çağdaşlık
- D) Vatanseverlik
- E) İleri görüşlülük

4. İngiltere ile Rusya'nın 1908'de Reval Görüşmeleri'nde bir araya gelip Makedonya gibi bazı Osmanlı topraklarıyla ilgili kararlar almaları, II. Abdülhamit'e muhalif olan İttihatçılara "vatanın elden gittiği" propagandasını yapma fırsatını vermiş ve isyanların daha da yayılmasından endişelenen Padişah, aynı yıl II. Meşrutiyet'i ilan etmiştir.

Buna göre aşağıdakilerden hangisi söylenemez?

- A) Balkan topraklarından bir kısmının elden çıktığı
- B) Osmanlı hükümdarının yetkilerinin kısıtlanmasından vazgeçildiği
- C) İngiltere ve Rusya'nın Osmanlılarda insan haklarının gelişmesini temel amaç edindikleri
- D) Osmanlı ülkesinde meşrutiyet rejimine geçilmesinden dolayı azınlıkların isyan etmelerine dair riskin arttığı
- E) Osmanlı iç işlerine karışılmasına yönelik siyasi bir dış gelişmenin Türk demokratikleşme sürecine etki ettiği

5. Balkan Savaşları'nın sonucunda;

- I. Osmanlı sınırlarının daralması,
- II. demografik hareketlenmelerin yaşanması,
- III. Doğu Avrupa'da siyasi birliğin sağlanması

durumlarından hangileri ortaya çıkmıştır?

- A) Yalnız I
- B) Yalnız II
- C) I ve II
- D) I ve III
- E) I, II ve III

6. I. Dünya Savaşı'nda Osmanlı Devleti'nin savaştığı taarruz cepheleri Kafkas ve Kanal cepheleridir.

Bu bilgi Osmanlı Devleti ile ilgili aşağıdaki yargılardan hangisini doğrulamada kullanılabilir?

- A) Bazı cepheler açtığını
- B) Yeni topraklar kazandığını
- C) Yanlış yerlerde harp yaptığını
- D) Savunmaya dönük savaştığını
- E) Yabancı cephelere gitmek zorunda kaldığını

7. Aşağıdakilerden hangisi Osmanlı Devleti'nin I. Dünya Savaşı'nda gerçek anlamda zaferle sonuçlandırdığı tek cephe?

- A) Irak
- B) Hicaz
- C) Suriye
- D) Çanakkale
- E) Makedonya



8. I. Dünya Savaşı devam ederken beklenmedik bazı olaylar meydana gelmiştir. 1917’de Bolşevik İhtilali’ni yaşayan Rusya savaştan çekilmiş, diğer taraftan ise Almanların saldırganlığından kaynaklanan tahrikin sonucunda ABD savaşa girmiştir.

Bu gelişmelerin aşağıdakilerden hangisine yol açtığından bahsedilebilir?

- A) SSCB’nin yıkılmasına
B) Savaşın seyrinde değişimler yaşanmasına
C) İtilaf Devletleri’nin savaştan yenik çıkmalarına
D) İttifak Bloku’ndaki devlet sayısının azalıp çoğalmasına
E) Anlaşma Devletleri’nin güç ve ağırlığının sabit kalmasına

9. Mondros Ateşkes Antlaşması ile Osmanlı Devleti fiilen sona ermiştir.

Buna göre Osmanlı Devleti ile ilgili;

- I. siyasi ömrünü tamamladığı,
II. kalıcı bir barış antlaşması imzaladığı,
III. eylemsel anlamda âciz bir duruma düştüğü

ifadelerinden hangilerine ulaşılabilir?

- A) Yalnız I B) Yalnız II C) Yalnız III
D) II ve III E) II ve III

10. Günümüzde bile sözde Ermeni Soykırımı iddialarına bir dayanak olarak kullanılan ve I. Dünya Savaşı sırasında ortaya konulan belge aşağıdakilerden hangisidir?

- A) Wilson İlkeleri B) Paris Antlaşması
C) Berlin Antlaşması D) Muhaceret Nizamnamesi
E) Sevk ve İskân (Tehcir) Kanunu

11. Mustafa Kemal, I. Dünya Savaşı’nda; “Anafartalar Kahramanı” olarak meşhur olmuş, Muş ve Bitlis’i Ruslardan geri almış ayrıca Halep’te bulunduğu sırada birliklerine geri çekilme emri vermiştir.

Buna göre Mustafa Kemal’in I. Dünya Savaşı’nda mücadele verdiği üç cephe aşağıdakilerden hangisidir?

- A) Çanakkale – Kafkas – Suriye
B) Çanakkale – Kafkas – Kanal
C) Çanakkale – Kanal – Suriye
D) Kanal – Kafkas – Suriye
E) Irak – Kafkas – Suriye

12. I. Dünya Savaşı sırasında ABD Başkanı tarafından yayımlanan Wilson İlkeleri’nde “yenen devletlerin yenilenlerden toprak ve tazminat almamaları” öngörülmüştür.

I. Dünya Savaşı’ndan sonra imzalanan Mondros Ateşkes Antlaşması sonucunda İtilaflar Anadolu’yu işgal etmiş ayrıca mağlup devletlerden “savaş tamaratı” adı altında para almışlardır.

Bu iki durum birlikte değerlendirildiğinde aşağıdakilerden hangisine ulaşılabilir?

- A) ABD’nin İtilaf Devletleri’ni kandırdığı
B) ABD’nin mağlup devletler arasında yer aldığı
C) Savaştan sonra Wilson İlkeleri’nin çiğnendiği
D) ABD’nin İttifak Devletleri’ne büyük güç kattığı
E) Anadolu’nun işgal edilmesinde Wilson İlkeleri’nin etkili olduğu

13. I. Dünya Savaşı’ndan sonra toplanan Paris Barış Konferansı’na ABD, İngiltere, Fransa ve İtalya yön vermişlerdir.

Bu durumun;

- I. kalıcı bir barışın sağlanması,
II. yenilen devletlerin sorunlarına kalıcı çözümlerin getirilememesi,
III. toplantının, savaşın galibi olan büyük güçlerin isteklerine göre şekillenmesi

sonuçlarından hangilerine neden olduğu söylenebilir?

- A) Yalnız II B) Yalnız III C) I ve II
D) II ve III E) I, II ve III

14. I. Dünya Savaşı’nın sonucunda imzalanan antlaşmalar ile İttifak (Bağlaşma) Devletleri’ne;

- I. siyasi,
II. askerî,
III. iktisadi

alanlardan hangilerine yönelik kısıtlamalar getirilmiştir?

- A) Yalnız III B) I ve II C) I ve III
D) II ve III E) I, II ve III



DEĞERLENDİRME TESTİ - 4 (20-22. ÜNİTELER)

1. Mustafa Kemal'in gençlik yıllarına denk gelen II. Meşrutiyet'in ilan edilmesi ile başlayan süreçte, on dört yıl içerisinde yirmi dört hükümet kurulmuştur.

Bu bilgiden hareketle Osmanlı Devleti ile ilgili olarak Mustafa Kemal'in, gençliğinden itibaren aşağıdakilerden hangisine şahit olduğundan bahsedilemez?

- A) Rejim değişikliğine
B) İdari istikrarsızlığa
C) Kabine değişikliğine
D) Yasama organının sürekli feshine
E) İttihat ve Terakki Dönemi'ndeki kararsız politikalara

2. 29 Eylül 1913'te Osmanlı Devleti ile Bulgaristan arasında imzalanmıştır. Meriç Nehri sınır olarak belirlenmiştir. Edirne, Kırklareli ve Dimetoka Osmanlı Devleti'ne kalmıştır.

Bazı özellikleri verilen bu antlaşma aşağıdakilerden hangisidir?

- A) Paris Antlaşması
B) Atina Antlaşması
C) Bükreş Antlaşması
D) Londra Antlaşması
E) İstanbul Antlaşması

3. I. Dünya Savaşı'nda İtilaf (Anlaşma) Bloku'nda yer alıp da kendisi ile gizli antlaşma imzalanan güçler arasında;

- I. İtalya,
II. Japonya,
III. Sovyet Rusya

devletlerinden hangileri gösterilebilir?

- A) Yalnız I
B) Yalnız III
C) I ve II
D) I ve III
E) I, II ve III

4. Mustafa Kemal'in I. Dünya Savaşı başladığı sıralardaki rütbe ve görevi aşağıdakilerden hangisidir?

- A) Yüzbaşı – Kolağalığı
B) Binbaşı – Derne Komutanlığı
C) Yarbay – Sofya Ataşemiliterliği
D) Yarbay – 19. Tümen Komutanlığı
E) Albay – Anafartalar Grubu Kumandanlığı

5. I. Dünya Savaşı ile ilgili aşağıdaki bilgilerden hangisi doğrudur?

- A) ABD, Monroe Doktrini'nden beri devam ettirdiği infirâd (yalnızlık) politikasına kalıcı olarak son vermiştir.
B) Avusturya, Macaristan, Polonya, Yugoslavya, Çekoslovakya, Lityvanya, Estonya devletleri kurulmuştur.
C) Bağlaşma Devletleri'ne, rejim değişikliği yapmalarını zorunlu tutan hükümler imzalanmıştır.
D) Uluslararası barışın sağlanması amacıyla Birleşmiş Milletler Teşkilatı oluşturulmuştur.
E) Wilson Prensipleri yayımlanarak manda ve himaye sistemine son verilmiştir.

6. Mustafa Kemal Paşa, 6 Kasım 1918'de Sadrazam Ahmet İzzet Paşa'ya şu telgrafı göndermiştir: "Anlaşmazlıkları giderecek tedbirler alınmadan orduların terhis edilmesi ve İngilizlerin her dediğine boyun eğilmesi durumunda İngiliz ihtiraslarının önüne geçmeye imkân olmayacaktır."

Aşağıdakilerden hangisinin imzalanması bu telgrafın çekilmesinde etkili olmuştur?

- A) Uşi Antlaşması'nın
B) Sevr Antlaşması'nın
C) Mondros Ateşkesi'nin
D) Mudanya Ateşkesi'nin
E) Ankara Antlaşması'nın

7. Aşağıdakilerden hangisi Millî Mücadele Dönemi'nde Anadolu'da devlet kurmak amacıyla faaliyet gösteren cemiyetlerden biri değildir?

- A) Hınçak
B) Pontus
C) Kürt Teâli
D) Taşnak Sütyun
E) İngiliz Muhipleri

8. Ali Fuat Paşa, 24 Ekim 1920'de gerçekleştirdiği Gediz Taarruzu'nda emrindeki Kuvayimillîye birlikleri ile başarısız olmuş ve görevinden alınmıştır.

Bu durum aşağıdakilerden hangisi üzerinde etkili olmuştur?

- A) Düzenli ordunun oluşturulması
B) İstiklal Mahkemelerinin kurulması
C) İstanbul Hükümeti'ne tabi olunması
D) Hıyanetivatanîye Kanunu'nun kabul edilmesi
E) Yunanlarla ağır şartlar içeren bir antlaşmanın imzalanması

9. I. TBMM'ye muhalif olan bazı kesimlerin çıkardıkları isyanlara karşı alınan önlemler arasında aşağıdakilerden hangisi yer almaz?

- A) Anadolu Ajansı'nın açılması
- B) İstiklal Mahkemelerinin kurulması
- C) Takririsükûn Kanunu'nun çıkarılması
- D) Hıyanetivatanîye Kanunu'nun kabul edilmesi
- E) Ankara Müftüsü Rifat Börekçi'den, Millî Mücadele'nin haklılığına dair fetva alınması

10. Sivas Kongresi'nin toplanmasını engellemek üzere Damat Ferit Paşa tarafından görevlendirilen Harput (Elazığ) Valisi Ali Galip Bey başarısız olunca Kongre toplanmış ve Damat Ferit Paşa görevden alınmıştır. Yeni hükûmeti kurma görevi ise Temsil Heyeti'ne daha ılımlı baktığı bilinen Ali Rıza Paşa'ya verilmiştir. Bu, Anadolu'daki direniş hareketinin veya Temsil Heyeti'nin İstanbul'a karşı ilk siyasi başarısı veya İstanbul'un Temsil Heyeti karşısında ilk geri adım atışı olarak değerlendirilmektedir.

Bu olayların zemin hazırladığı gelişme aşağıdakilerden hangisidir?

- A) Pozantı Kongresi
- B) Amasya Görüşmeleri
- C) Alaşehir Kongresi
- D) Erzurum Kongresi
- E) Balıkesir Kongresi

11. 1919 yılında görülen;

- I. kongrelerin düzenlenmesi,
- II. genelgelerin yayımlanması,
- III. direnişle dair kararların Meclis-i Mebusanda görüşülmesinin istenmesi

faaliyetlerinden hangileri Millî Mücadele'nin halka mâl edilmesine yöneliktir?

- A) Yalnız II
- B) I ve II
- C) I ve III
- D) II ve III
- E) I, II ve III

12. Amasya Genelgesi'nde aşağıdakilerden hangisini ilgilendiren örtük veya açık bir karar alınmamıştır?

- A) Erzurum Kongresi'nin toplanmasını
- B) Azınlık haklarının kesinleştirilmesini
- C) Ulusal bir kongrenin düzenlenmesini
- D) Millî egemenliğe dayalı bir devletin kurulmasını
- E) Kurtuluş Savaşı'nın amaç, gerekçe ve yönteminin belirlenmesini

13. Millî Mücadele Dönemi'nde Mustafa Kemal;

- I. Pozantı,
- II. Balıkesir,
- III. Erzurum

kongrelerinden hangilerine katılmıştır?

- A) Yalnız III
- B) I ve II
- C) I ve III
- D) II ve III
- E) I, II ve III

14. 10 Ağustos 1920'de imzalanan Sevr Antlaşması'nın aşağıdaki maddelerinden hangisi, 24 Temmuz 1923 tarihli Lozan Antlaşması'nda önemli bir değişime uğramadan yeniden kabul görmüştür?

- A) Mardin, Antep ve Urfa Fransa'nın olacak.
- B) Avrupa devletleri kapitülasyonlardan yararlanacak.
- C) Doğu Trakya ve Batı Anadolu Yunanistan'da kalacak.
- D) Boğazlar'ın idaresi uluslararası bir komisyona bırakılacak.
- E) Doğu Anadolu'da Ermenistan ve Kürdistan devletleri kurulacak.

15. I. TBMM'nin yaptığı tek devrim olarak da bilinen saltanatın kaldırılması ya da padişahın sultanlık yetkilerinin elinden alınması, doğrudan cumhuriyetçilik ilkesi ile ilgili bir inkılap iken bir yönüyle laiklik yolundaki ilk yenilik olarak da değerlendirilmektedir.

Bu durum aşağıdakilerden hangisiyle açıklanabilir?

- A) Cumhuriyetin ilan edilmesiyle
- B) Dinin toplumda etkili olmasıyla
- C) Hükümdarlığın babadan oğla geçmesiyle
- D) Halifenin siyasi yetkilerine son verilmesiyle
- E) TBMM'ye şeriat işlerini yürütme görevinin yüklenmesiyle

16. Aşağıdakilerden hangisi Atatürk'ün laiklik ilkesi ile ilgili sözlerinden biri değildir?

- A) Kesin zaruret olmadıkça piyasalara karışılmaz; bununla beraber, hiçbir piyasa da başıboş değildir.
- B) Biz sade din işlerini millet ve devlet işleriyle karıştırmaya çalışıyoruz.
- C) Türkiye Cumhuriyeti şeyhler, dervişler, müritler memleketi olamaz.
- D) Cumhuriyet sizden akıllı hür, vicdanlı hür, irfanlı hür nesiller ister.
- E) Hayatta en hakiki mürşit ilimdir, fendir.